

**PRIPREMA ZA DRUGU PISANU PROVJERU GEOGRAFSKIH VJEŠTINA I
KARTOGRAFSKE PISMENOSTI**

Pisana provjera obuhvaća sljedeće odgojno-obrazovne ishode:

| Prostorni identitet | | Razine usvojenosti |
|--|---|---|
| odgojno-obrazovni ishodi | razrada ishoda | dobra |
| <p>GEO OŠ A.B.5.3. Učenik analizira globalnu raspodjelu kopna i mora na geografskoj karti i globusu te uspoređuje prostorne identitete na kontinentskoj, regionalnoj i nacionalnoj razini.</p> <p>GEO OŠ A.5.4. Učenik opisuje oblik, granice i državne simbole Republike Hrvatske, objašnjava aspekte položaja te izdvaja prirodno-geografske regije i upravno-teritorijalne jedinice koristeći se geografskim kartama.</p> | <ul style="list-style-type: none"> • pokazuje i uspoređuje kontinente i oceane na globusu i geografskoj karti te ih imenuje na slijepoj karti • razlikuje kontinente Staroga i Novoga svijeta • obrazlaže kako se određuje geografski položaj • opisuje položaj Europe među kontinentima • imenuje europske regije i Hrvatsku kao članicu Europske unije s pomoću tematske karte • uspoređuje različite prostorne identitete Hrvatske • opisuje državne granice i oblik teritorija • izdvaja i uspoređuje upravno-teritorijalne jedinice Hrvatske | <p>Imenuje i uspoređuje kontinente i oceane na globusu i geografskoj karti te razlikuje kontinente Staroga i Novoga svijeta. Na geografskoj karti svijeta/Europe pronalazi Hrvatsku i određuje njen položaj unutar Europe. Navodi Hrvatsku kao članicu Europske unije. Opisuje državne simbole Hrvatske i posebnosti geografskoga položaja. Pokazuje prirodno-geografske regije na geografskim kartama te određuje pripadnost svojega zavičaja prirodno-geografskoj regiji.</p> |

Pisanom provjerom obuhvaćeni su sadržaji u udžbeniku od str. 32. do str. 47.

Pisana provjera sastoji se od zadataka objektivnog tipa:

a) zadatci zatvorenog tipa (zaokruživanje, povezivanje)

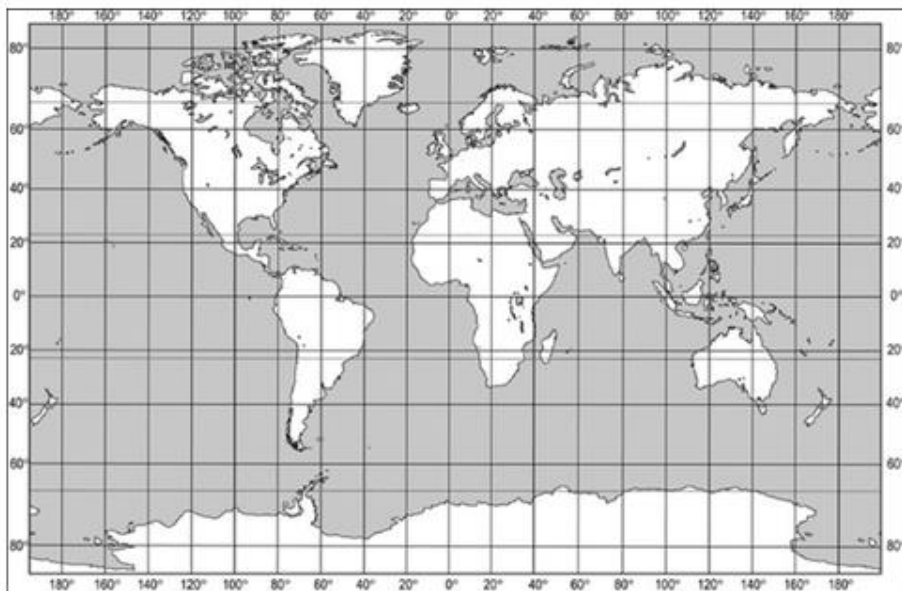
b) zadatci otvorenog tipa (nadopunjavanje, zadatak produženog odgovora)

Pisanom provjerom provjeravaju se geografske vještine i kartografska pismenost.

Na sat pisane provjere potrebno je donijeti atlas.

PRIJEDLOG ZADATAKA ZA UVJEŽBAVANJE KARTOGRAFSKE PISMENOSTI.

1. Imenovati kontinente i oceane na slijepoj karti.



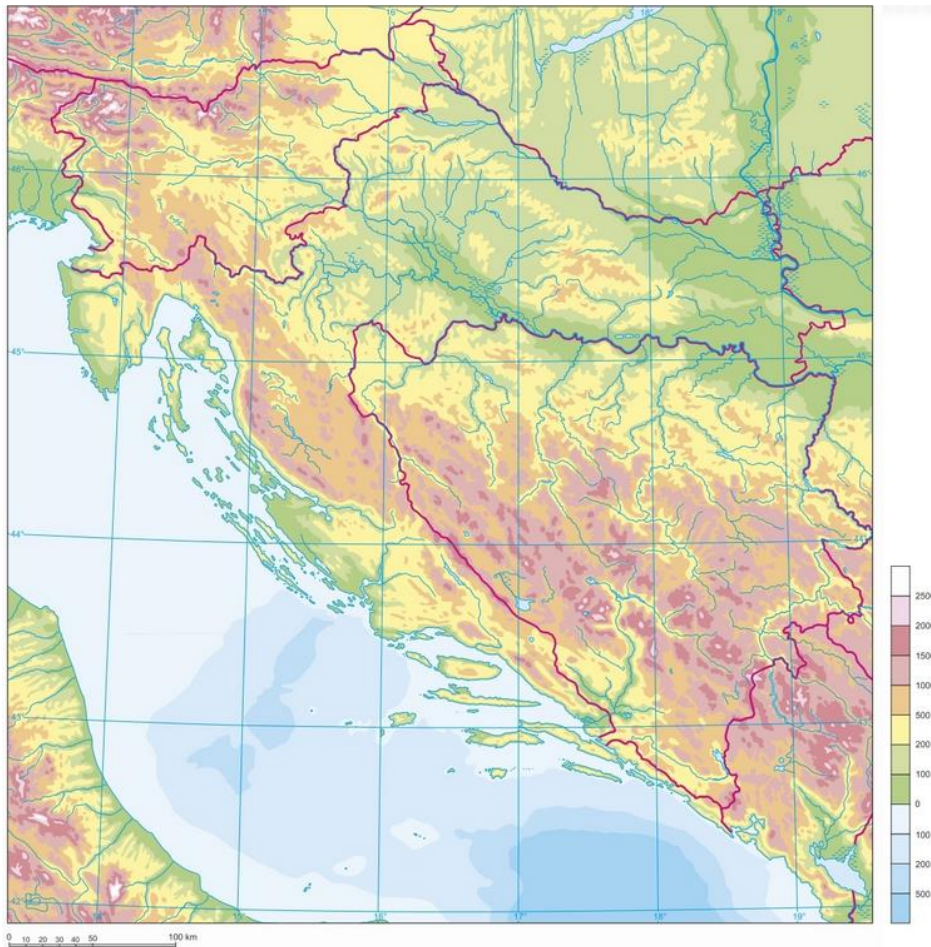
Npr. crvenom bojom oboji površinom najveći kontinent, žuto oboji najmanji kontinent, zeleno oboji kontinent na kojem ti živiš, narančasto oboji jedini kontinent bez stalnih stanovnika, plavo oboji Južnu Ameriku, upiši broj 1 na kontinente Starog svijeta

Npr. plavo oboji površinom najveći ocean, plavo oboji Indijski ocean.....

2. Prepoznati Hrvatsku na tematskoj karti regija Europe. Prepoznati i imenovati regije Europe čiji je dio Hrvatska.



3. Imenovati i prepoznati: na slijepoj karti države s kojima graniči Hrvatska, granične planine i rijeke (prema tablici u bilježnici)



3. Imenovati i prepoznati tradicijske regije.

Kvarner, Istru, Dalmaciju, Slavoniju, Zagorje, Međimurje, Baranju, Srijem, Liku, Gorski kotar.

Imenovati tradicijsku regiju u kojoj učenik/ica živi.



PRIJEDLOG ZADATAKA ZA UVJEŽBAVANJE GEOGRAFSKIH VJEŠTINA.

Napomena: Prilikom rješavanja zadataka iz ove skupine učenici će koristiti atlas.

1. Usporediti razmještaj kontinenata.

Npr. Uz pomoć karte svijeta u atlasu str. 6.7.

- a) navedi kontinente koje presjeca ekvator
- b) navedi kontinente koji imaju obalu na Indijskom oceanu
- c) navedi oceane na kojima svoje obale ima Europa

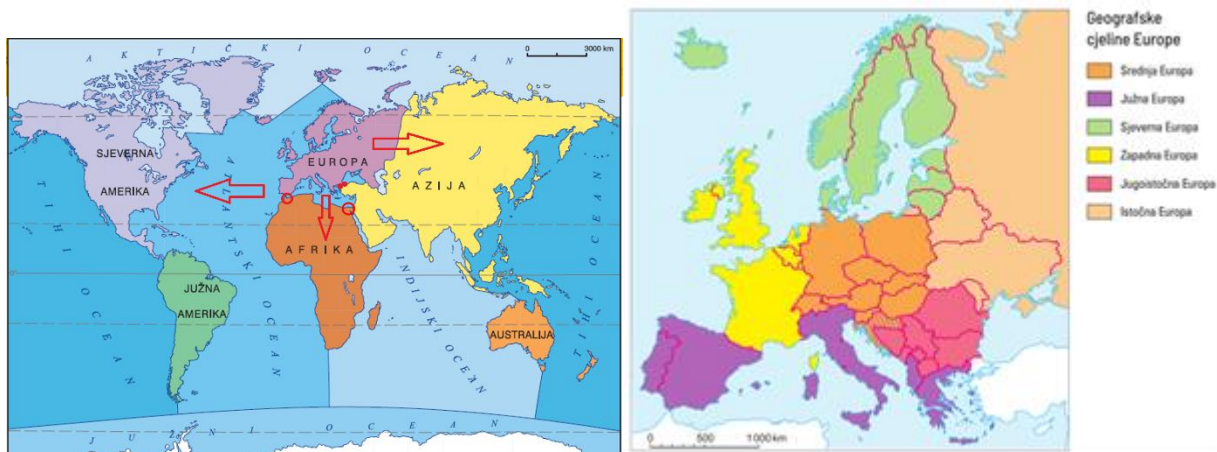
2. Uz pomoć tematske karte imenovati i prepoznati prirodno-geografske regije Hrvatske te za svaku prepoznati njihove specifičnosti (tablica u bilježnici). Imenovati prirodno-geografsku cjelinu u kojoj učenik/ica živi.



3. Uz pomoć tematske karte u atlasu str. 48. i političke karte u atlasu str. 48. 49. prepoznati u kojoj se geografskoj cjelini nalazi određena država.

Npr. u kojoj se geografskoj cjelini nalazi Njemačka.

4. Uz pomoć geografske karte svijeta i tematske karte Geografske cjeline Europe opisati geografski položaj Europe i Hrvatske.



5. Uz pomoć političke karte Hrvatske u atlasu str. 21. Županije Republike Hrvatske imenovati županiju u kojoj učenik/ica živi, analizirati tematsku kartu npr.

a) Nabroji dvije županije koje se nalaze u Gorskoj Hrvatskoj , dvije županije koje se nalaze u Primorskoj Hrvatskoj, dvije županije koje se nalaze u Panonskoj Hrvatskoj

b) Navedi ime najistočnije županije, najsjevernije županije

c) Navedi ime županije koja graniči i sa Slovenijom i sa Bosnom i Hercegovinom

6. Opisati državne simbole Republike Hrvatske.